

L'OROLOGIO

Lo strumento che usiamo oggi per misurare con precisione lo scorrere del tempo è l'**orologio**.

• La **lancetta lunga** indica i **minuti**.

• Sul **quadrante** sono segnate le **ore** e i **minuti**.




La **lancetta corta** indica le **ore**.

La **lancetta sottile** indica i **secondi**.


Un'**ora** è composta da **60 minuti**. Un **minuto** è suddiviso in **60 secondi**.
 La **lancetta delle ore** impiega un'ora per muoversi da un numero all'altro.
 La **lancetta dei minuti** in un'ora fa un giro intero dell'orologio.
 La **lancetta dei secondi** è ancora più veloce e fa un giro completo dell'orologio in un minuto.

Provo io


1 ► Leggi che ore sono e scrivilo sotto ogni orologio.



Sono le ore **6**



Sono le ore



Sono le ore



Sono le ore